

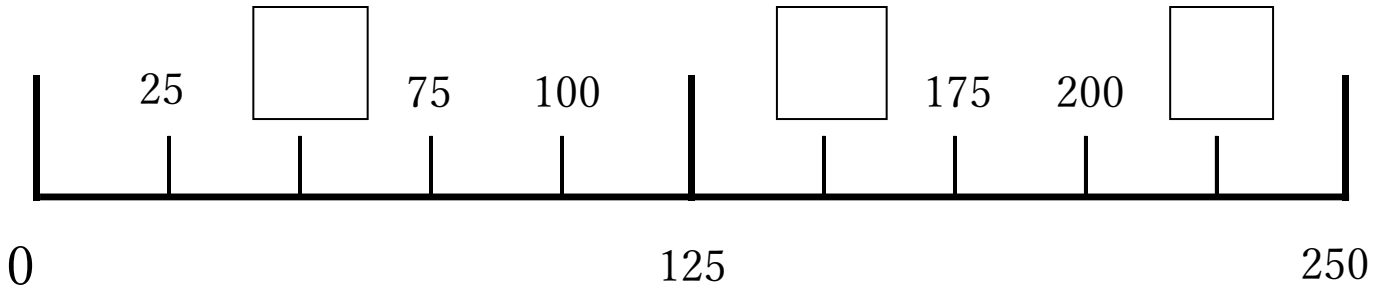
すうじ おお  
数字の大きさ⑤

なまえ  
名前

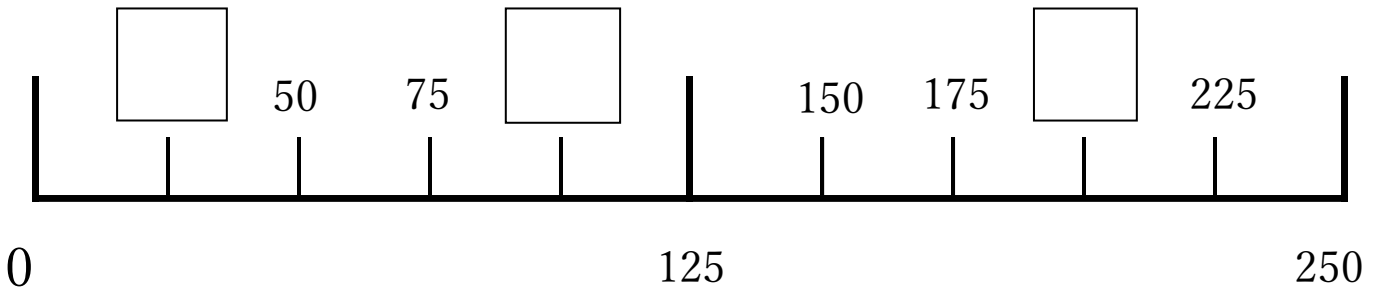


しかく はい すうじ  
◆四角に入る数字をかきましょう。

①



②



おお  
◆大きいほうの数字に○をつけましょう。

①

$$50 \cdot 25$$

②

$$75 \cdot 125$$

③

$$150 \cdot 75$$

④

$$225 \cdot 250$$

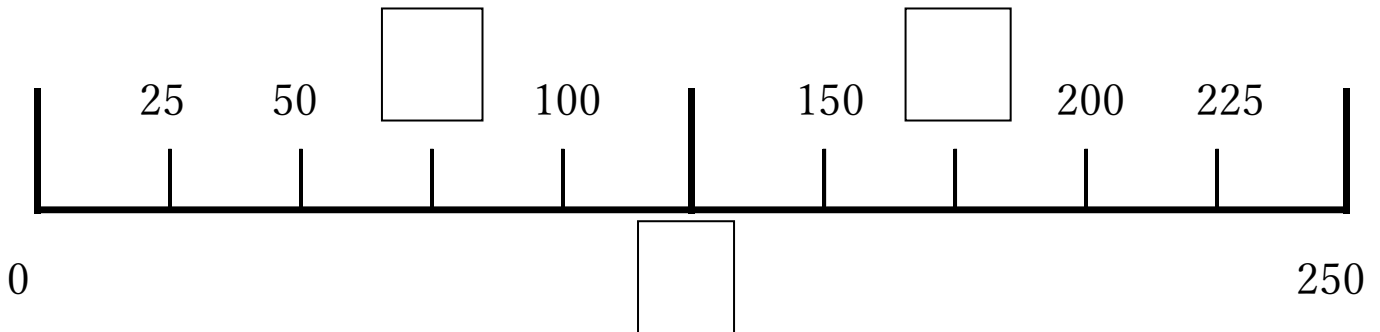
すうじ おお  
数字の大きさ⑤

なまえ  
名前

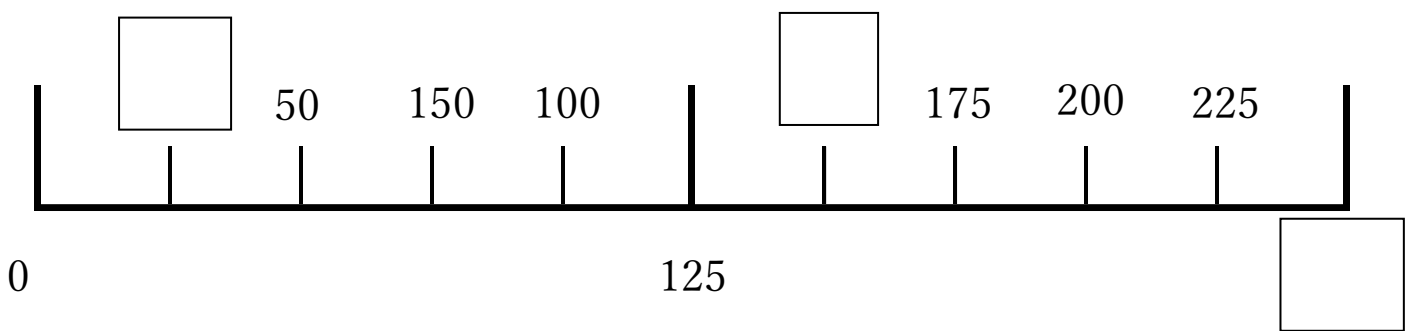


しかく はい すうじ  
◆四角に入る数字をかきましょう。

①



②



おお  
◆大きいほうの数字に○をつけましょう。

①

$$200 \cdot 125$$

②

$$250 \cdot 100$$

③

$$0 \cdot 75$$

④

$$125 \cdot 225$$

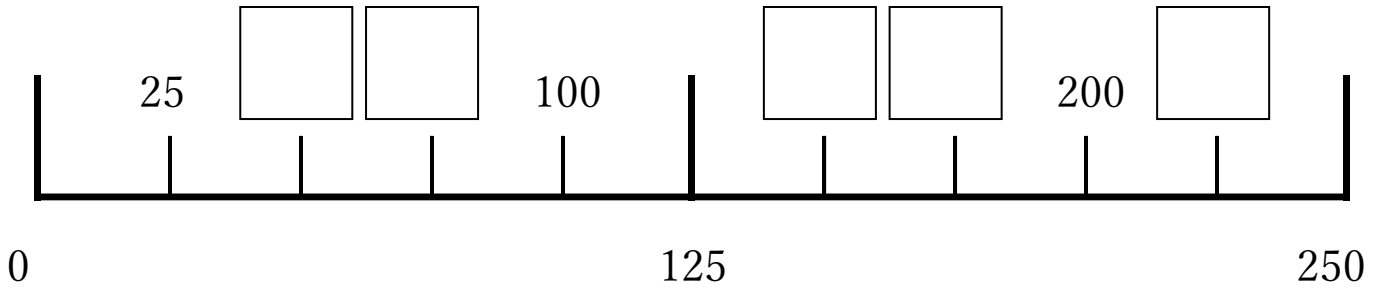
すうじ おお  
数字の大きさ⑤

なまえ  
名前

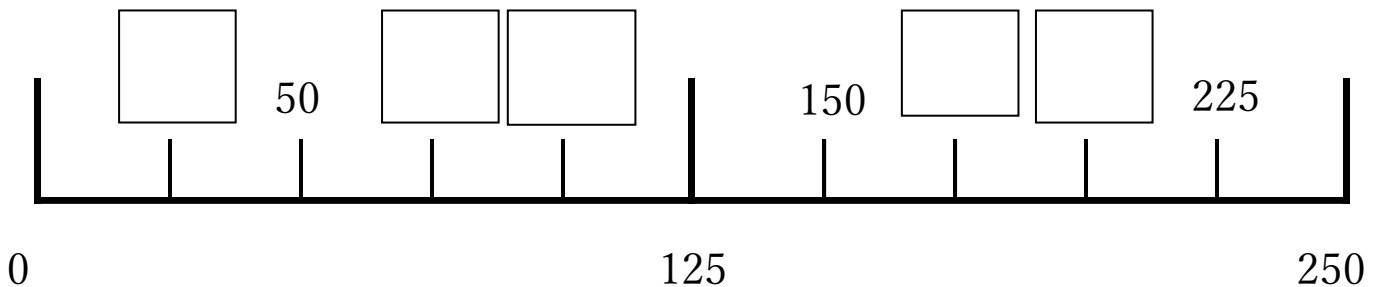


しかく はい すうじ  
◆四角に入る数字をかきましょう。

①



②



おお  
◆大きいほうの数字に○をつけましょう。

①

$$225 \cdot 200$$

②

$$150 \cdot 75$$

③

$$125 \cdot 50$$

④

$$25 \cdot 175$$

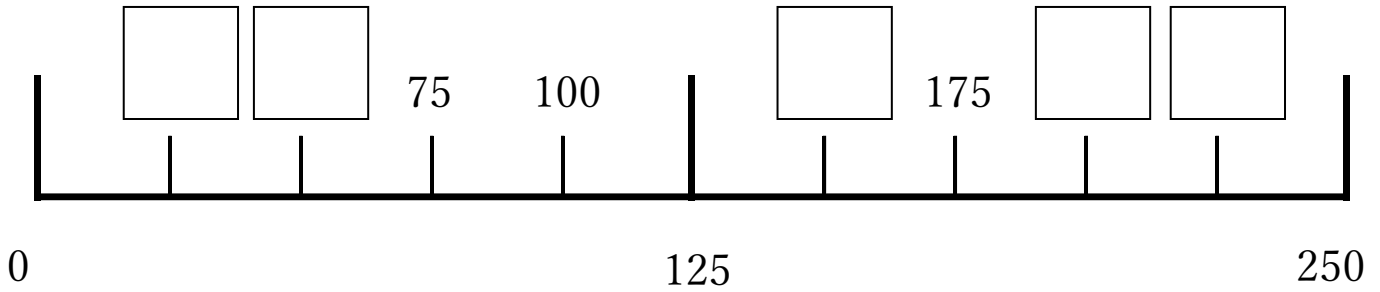
すうじ おお  
数字の大きさ⑤

なまえ  
名前

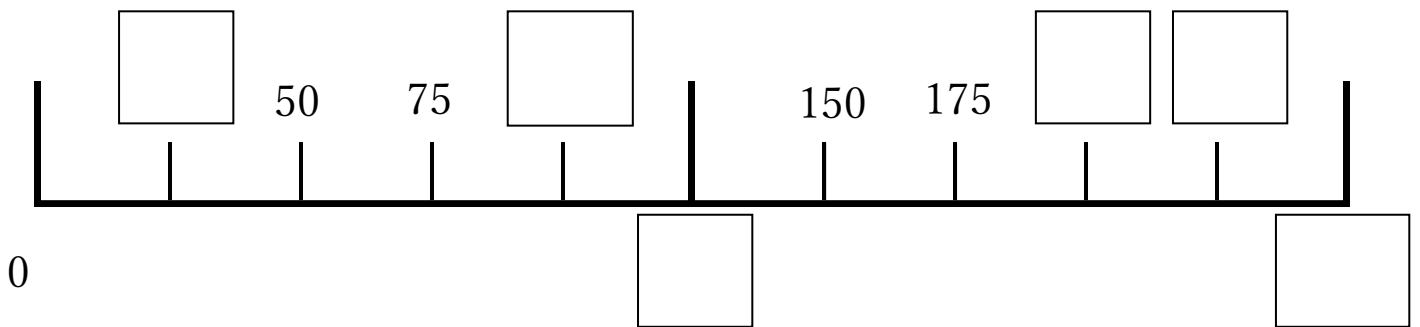


しかく はい すうじ  
◆四角に入る数字をかきましょう。

①



②



おお  
◆大きいほうの数字に○をつけましょう。

①

$$125 \cdot 50$$

②

$$150 \cdot 125$$

③

$$75 \cdot 25$$

④

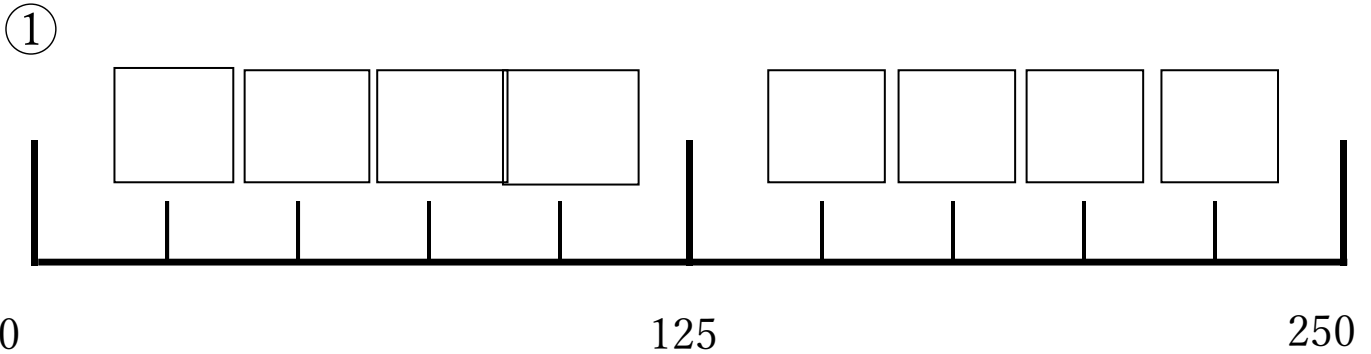
$$0 \cdot 75$$

すうじ おお  
数字の大きさ⑤

なまえ  
名前



しかく はい すうじ  
◆四角に入る数字をかきましょう。



ちい  
◆小さいほうの数字に○をつけましょう。

①

$$25 \cdot 150$$

②

$$225 \cdot 100$$

③

$$150 \cdot 75$$

④

$$150 \cdot 25$$

⑤

$$0 \cdot 125$$

⑥

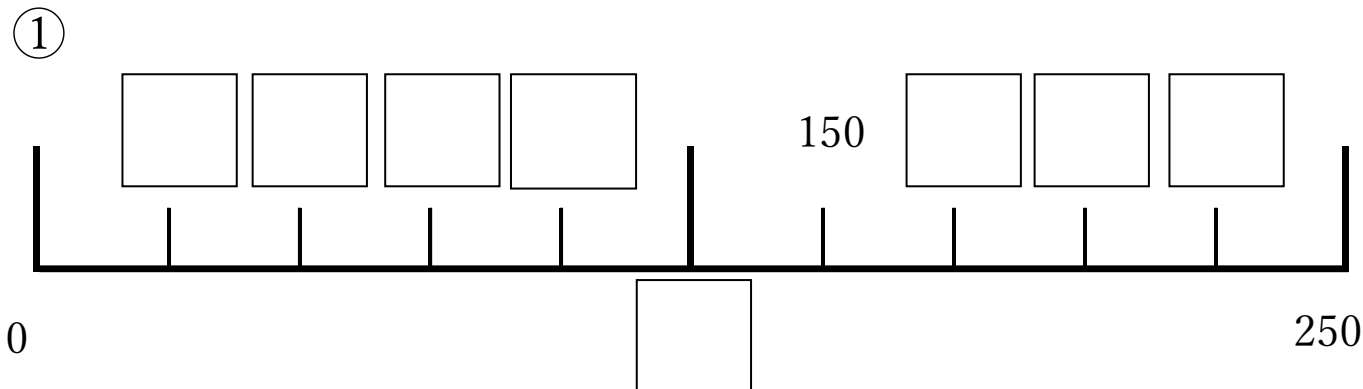
$$200 \cdot 125$$

すうじ おお  
数字の大きさ⑤

なまえ  
名前



しかく はい すうじ  
◆四角に入る数字をかきましょう。



ちい  
◆小さいほうの数字に○をつけましょう。

①

$$125 \cdot 100$$

②

$$75 \cdot 175$$

③

$$225 \cdot 50$$

④

$$75 \cdot 200$$

⑤

$$50 \cdot 125$$

⑥

$$200 \cdot 225$$