

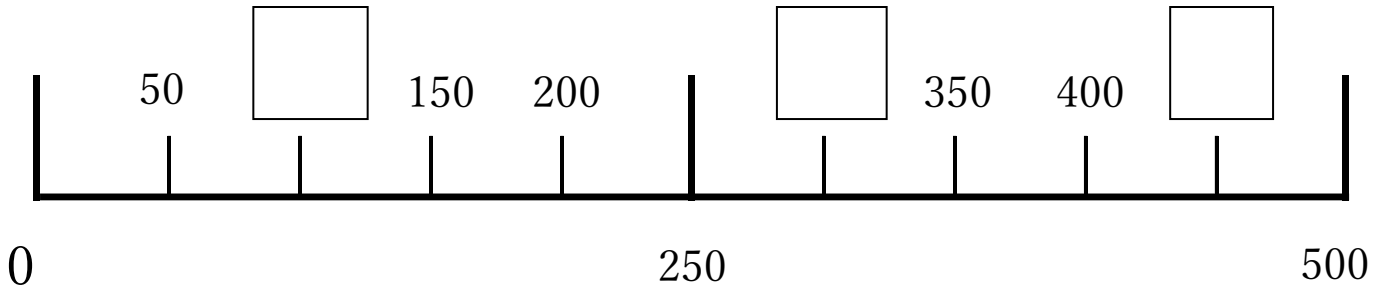
すうじ おお
数字の大きさ④

なまえ
名前

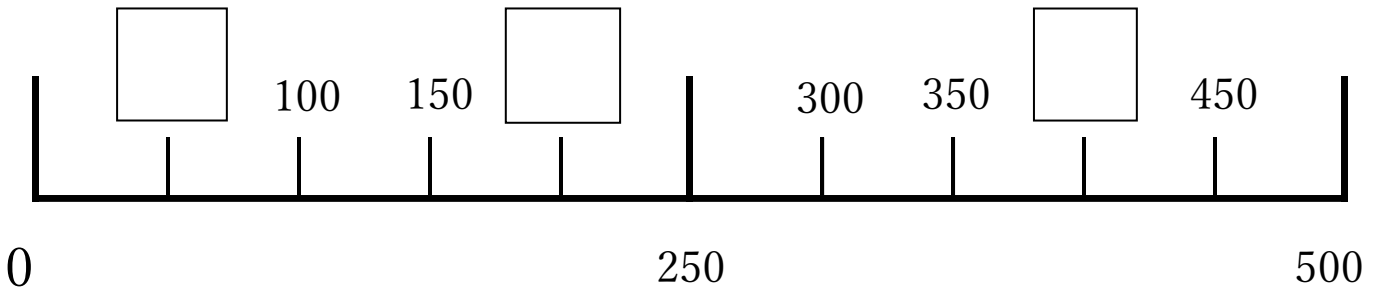


しかく はい すうじ
◆四角に入る数字をかきましょう。

①



②



おお
◆大きいほうの数字に○をつけましょう。

①

$$50 \cdot 100$$

②

$$250 \cdot 200$$

③

$$350 \cdot 100$$

④

$$450 \cdot 250$$

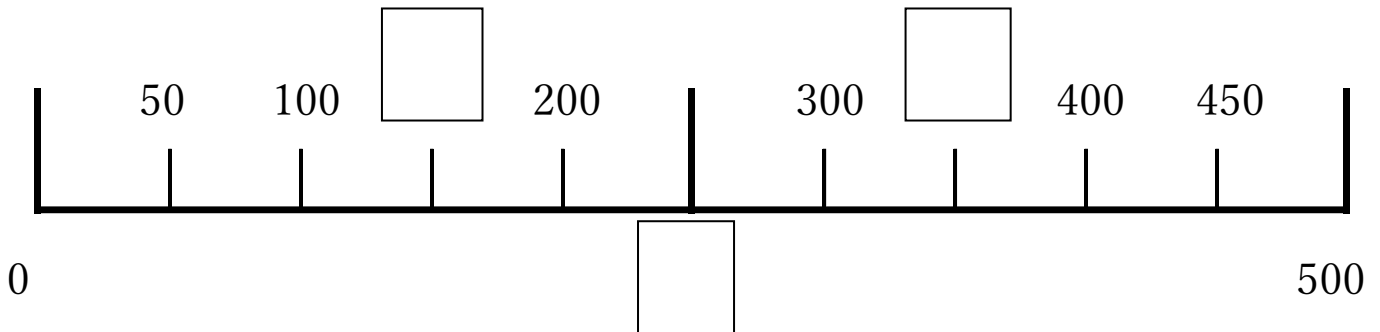
すうじ おお
数字の大きさ④

なまえ
名前

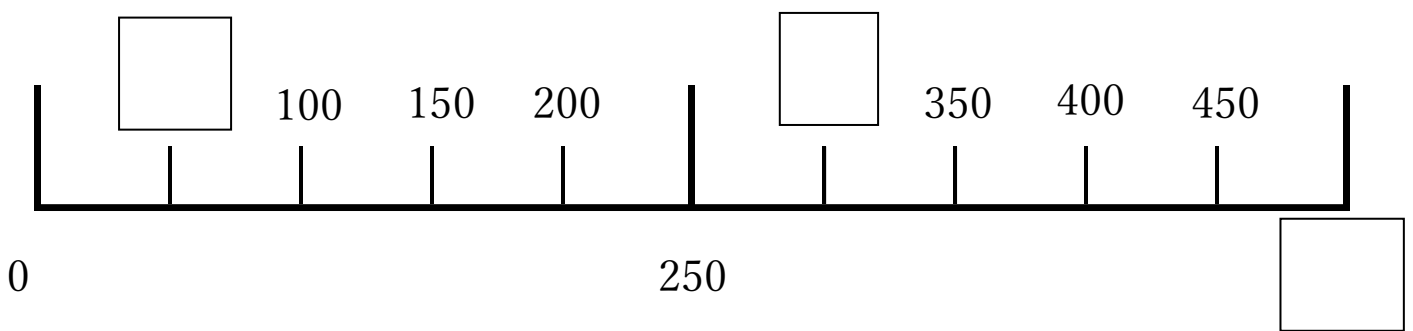


しかく はい すうじ
◆四角に入る数字をかきましょう。

①



②



おお
◆大きいほうの数字に○をつけましょう。

①

$$400 \cdot 250$$

②

$$500 \cdot 200$$

③

$$0 \cdot 150$$

④

$$250 \cdot 450$$

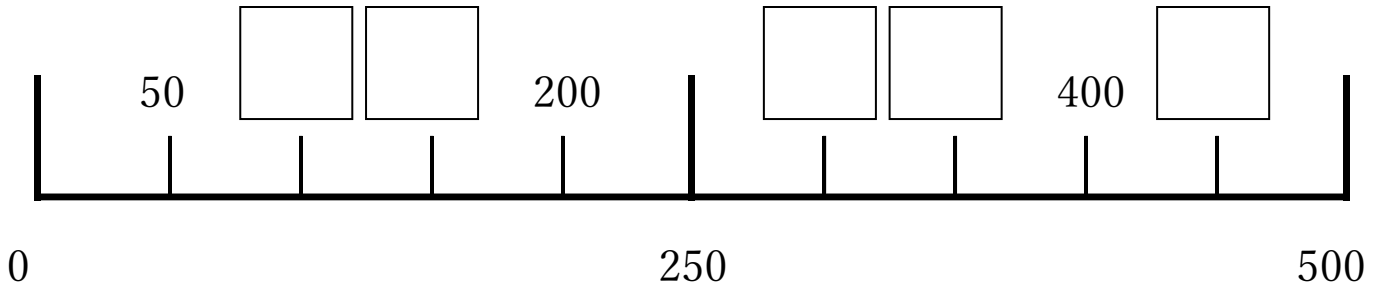
すうじ おお
数字の大きさ④

なまえ
名前

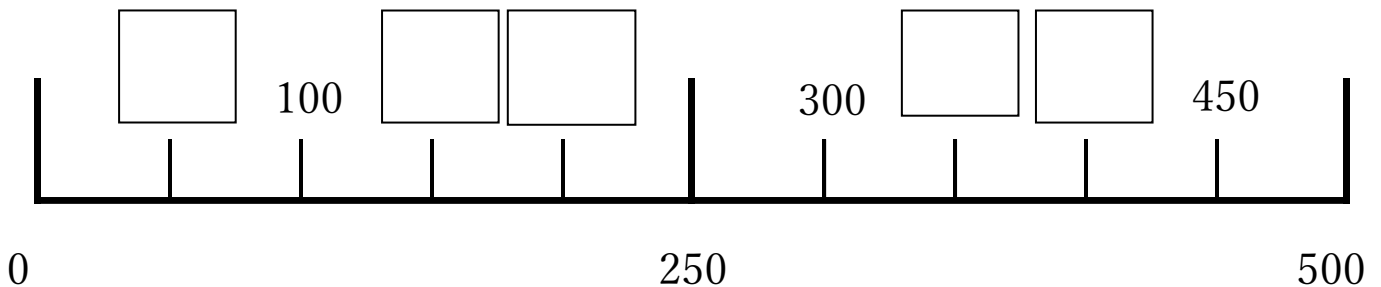


しかく はい すうじ
◆四角に入る数字をかきましょう。

①



②



おお
◆大きいほうの数字に○をつけましょう。

①

$$450 \cdot 400$$

②

$$300 \cdot 250$$

③

$$250 \cdot 100$$

④

$$50 \cdot 350$$

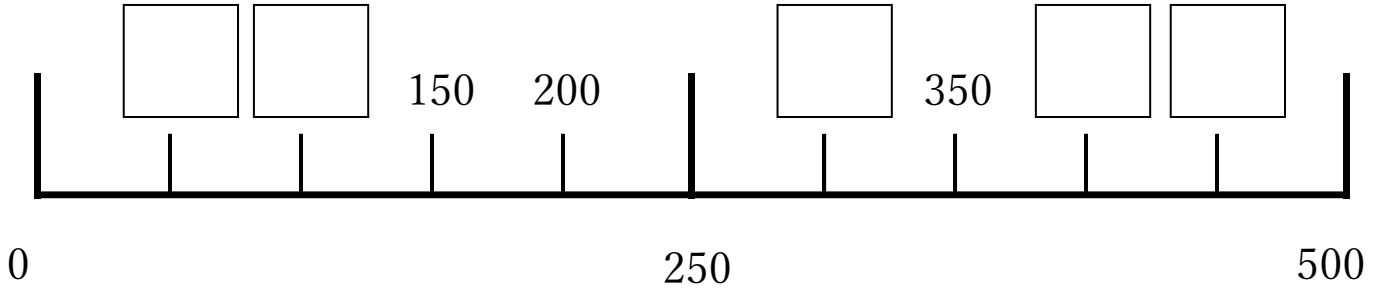
すうじ おお
数字の大きさ④

なまえ
名前

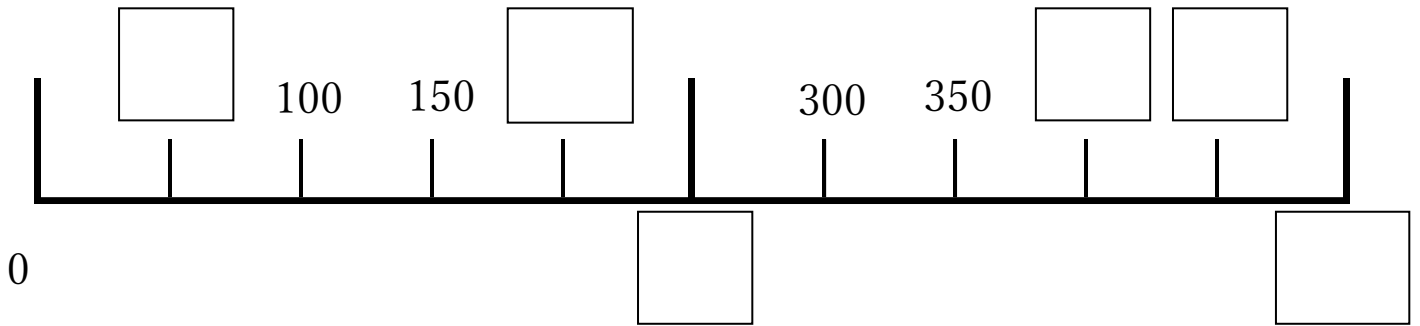


しかく はい すうじ
◆四角に入る数字をかきましょう。

①



②



おお
◆大きいほうの数字に○をつけましょう。

①

$$250 \cdot 100$$

②

$$300 \cdot 450$$

③

$$150 \cdot 50$$

④

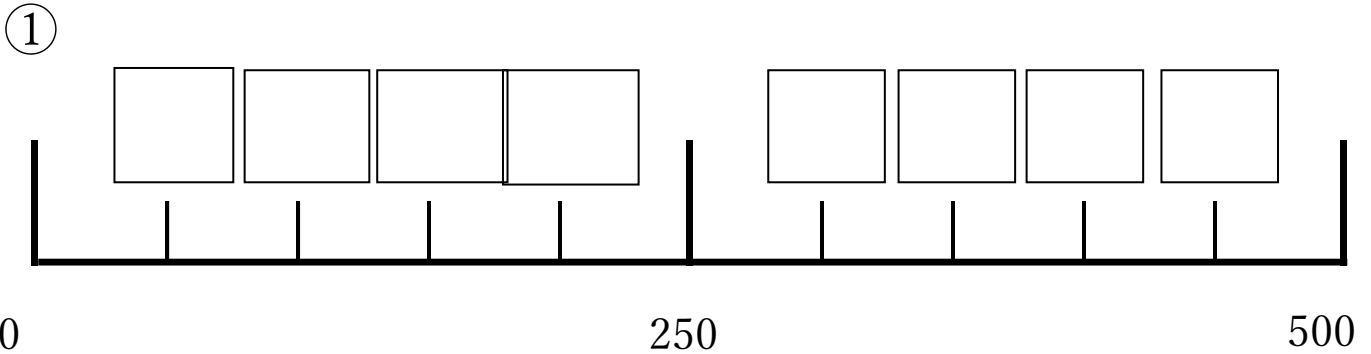
$$0 \cdot 150$$

すうじ おお
数字の大きさ④

なまえ
名前



しかく はい すうじ
◆四角に入る数字をかきましょう。



ちい
◆小さいほうの数字に○をつけましょう。

①

$$50 \cdot 300$$

②

$$450 \cdot 200$$

③

$$300 \cdot 150$$

④

$$300 \cdot 450$$

⑤

$$0 \cdot 250$$

⑥

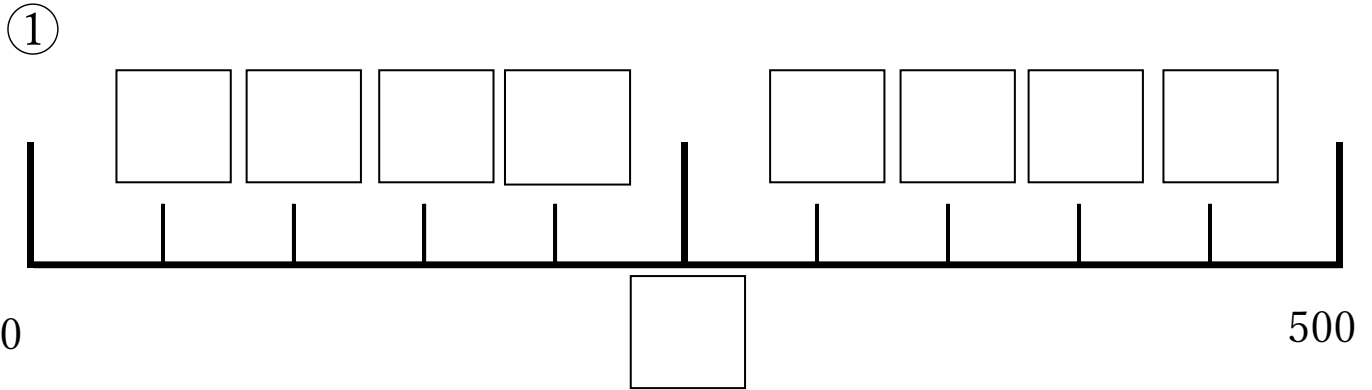
$$400 \cdot 250$$

すうじ おお
数字の大きさ④

なまえ
名前



しかく はい すうじ
◆四角に入る数字をかきましょう。



ちい
◆小さいほうの数字に○をつけましょう。

①

$$250 \cdot 200$$

②

$$150 \cdot 350$$

③

$$450 \cdot 100$$

④

$$250 \cdot 400$$

⑤

$$100 \cdot 250$$

⑥

$$400 \cdot 450$$