

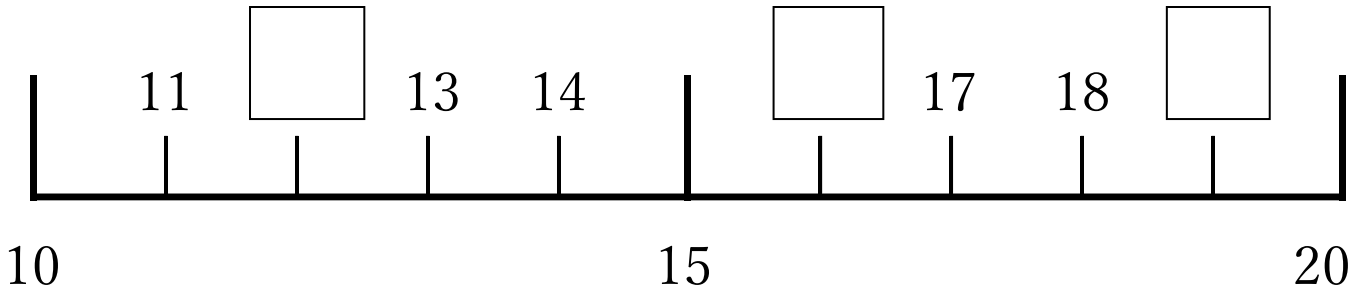
すうじ おお
数字の大きさ②

なまえ
名前

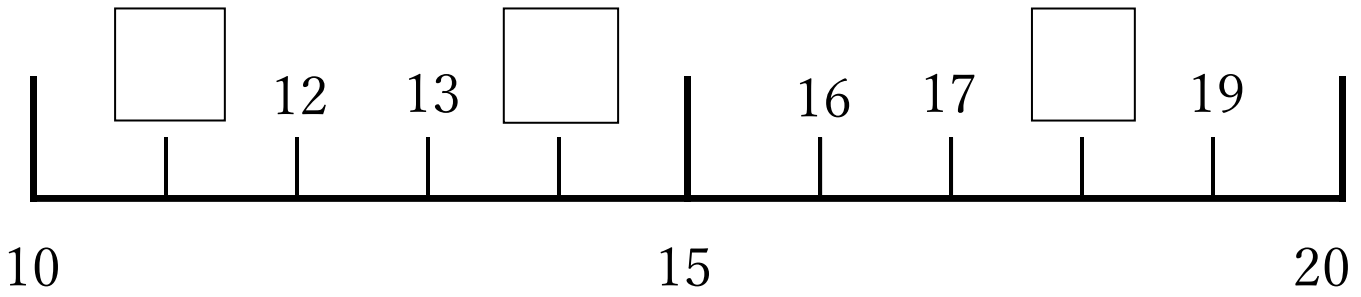


しかく はい すうじ
◆四角に入る数字をかきましょう。

①



②



おお
◆大きいほうの数字に○をつけましょう。

①

11 ・ 13

②

16 ・ 12

③

14 ・ 11

④

18 ・ 17

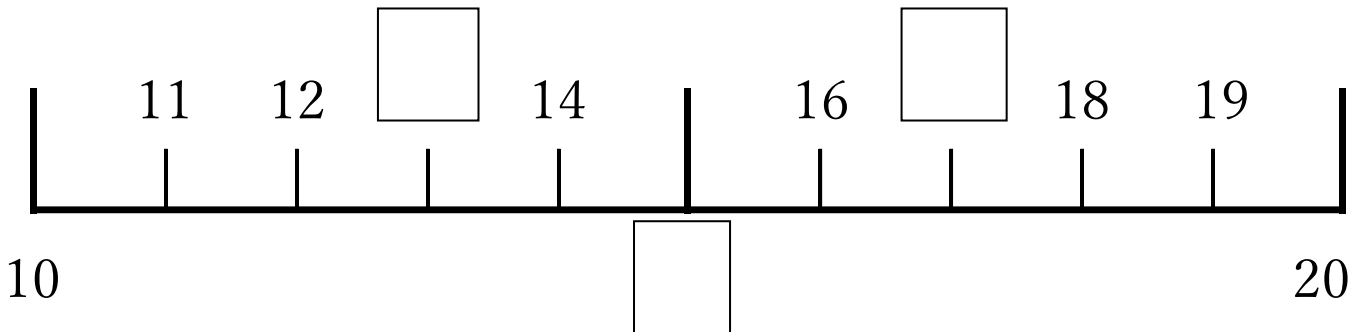
すうじ おお
数字の大きさ②

なまえ
名前

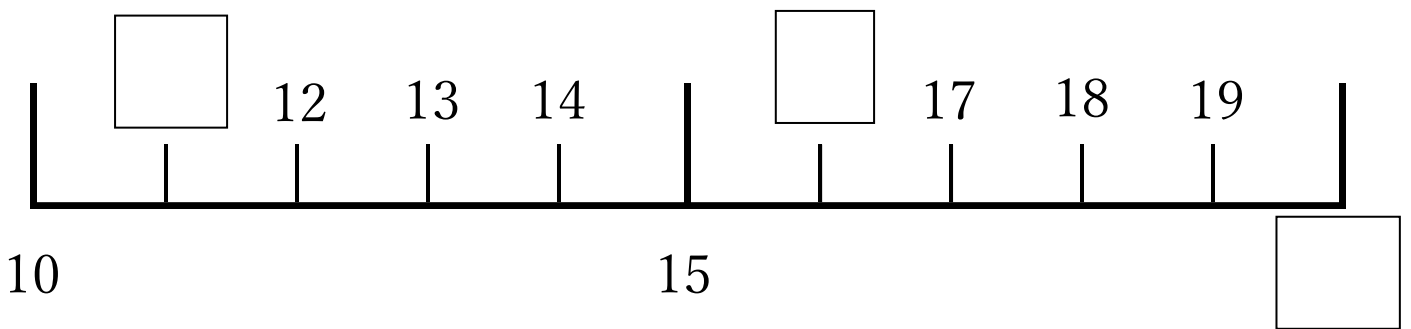


しかく はい すうじ
◆四角に入る数字をかきましょう。

①



②



おお
◆大きいほうの数字に○をつけましょう。

①

14 ・ 17

②

15 ・ 20

③

16 ・ 12

④

19 ・ 12

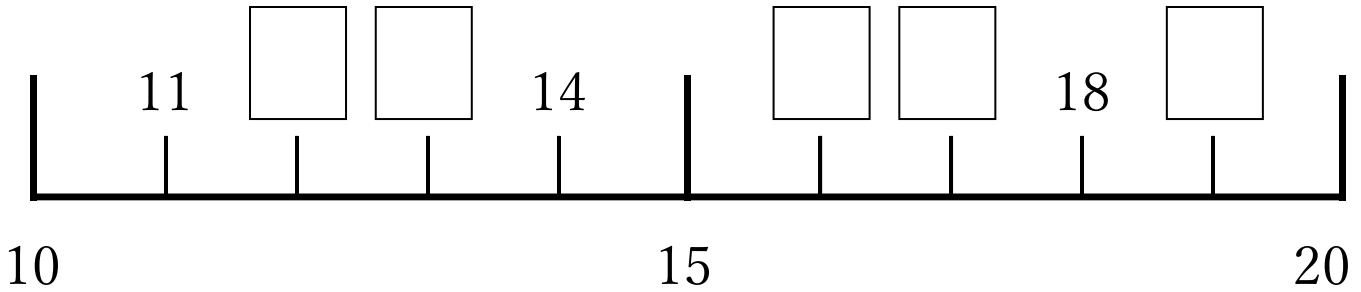
すうじ おお
数字の大きさ②

なまえ
名前

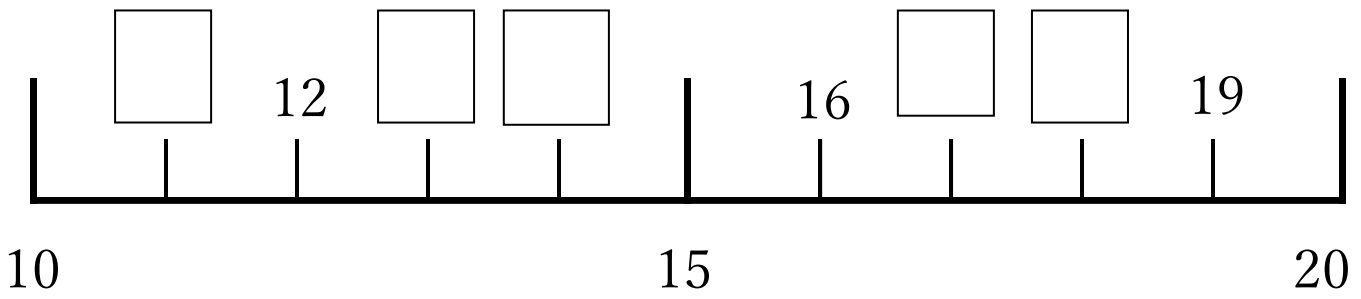


しかく はい すうじ
◆四角に入る数字をかきましょう。

①



②



おお
◆大きいほうの数字に○をつけましょう。

①

19 ・ 18

②

16 ・ 18

③

14 ・ 11

④

15 ・ 17

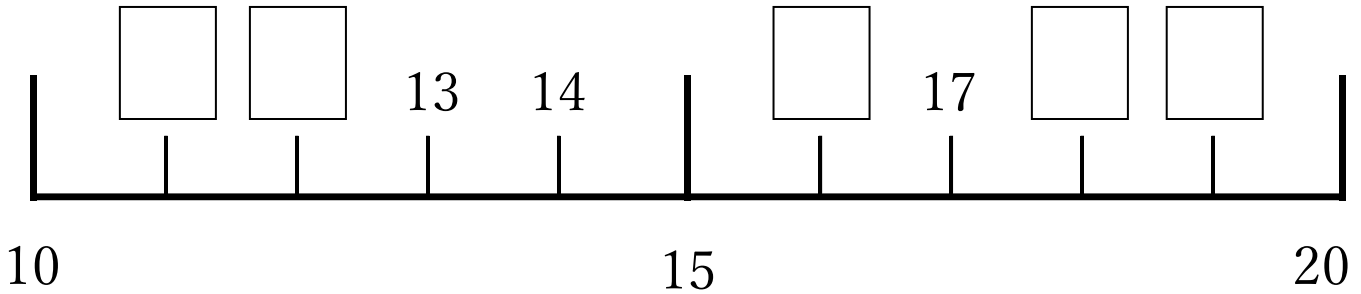
すうじ おお
数字の大きさ②

なまえ
名前

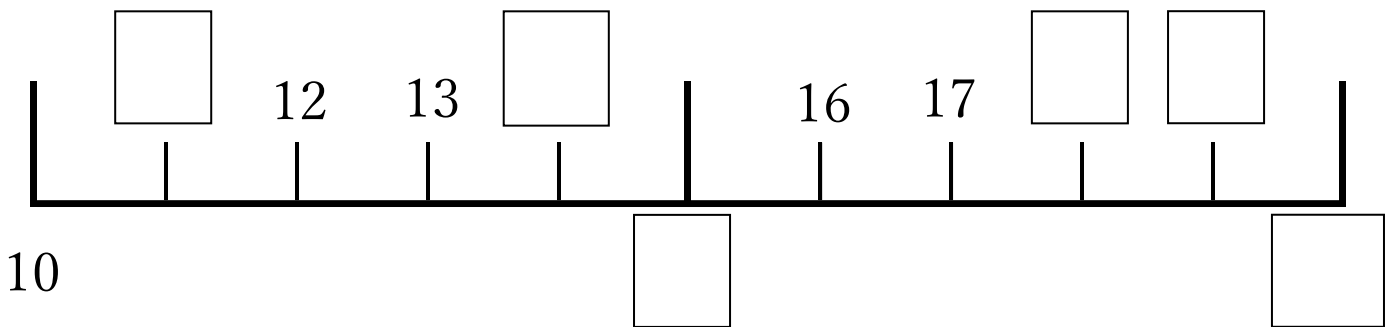


しかく はい すうじ
◆四角に入る数字をかきましょう。

①



②



おお
◆大きいほうの数字に○をつけましょう。

①

18 ・ 20

②

14 ・ 19

③

17 ・ 15

④

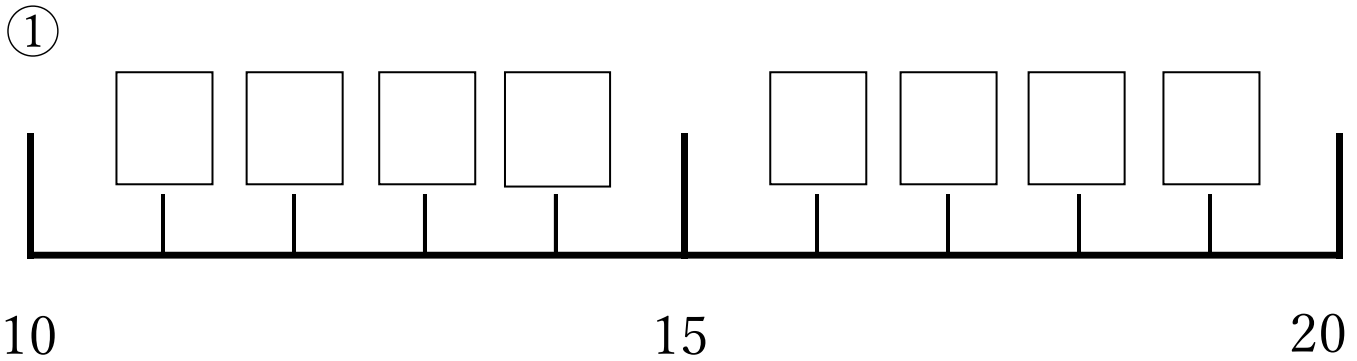
10 ・ 11

すうじ おお
数字の大きさ②

なまえ
名前



しかく はい すうじ
◆四角に入る数字をかきましょう。



ちい
◆小さいほうの数字に○をつけましょう。

①

11 ・ 16

②

18 ・ 12

③

16 ・ 13

④

16 ・ 19

⑤

10 ・ 14

⑥

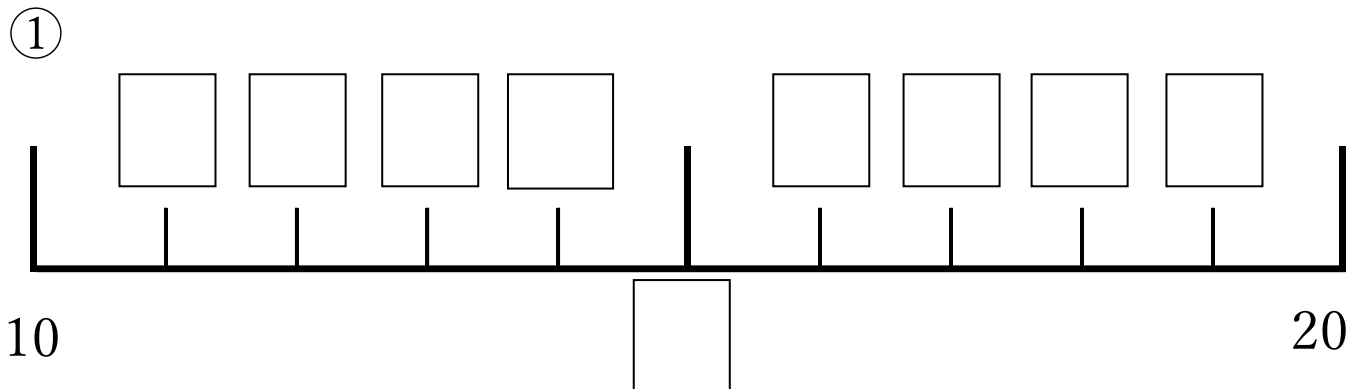
18 ・ 15

すうじ おお
数字の大きさ②

なまえ
名前



しかく はい すうじ
◆四角に入る数字をかきましょう。



ちい
◆小さいほうの数字に○をつけましょう。

①

14 ・ 12

②

13 ・ 17

③

19 ・ 11

④

15 ・ 18

⑤

20 ・ 2

⑥

18 ・ 19