

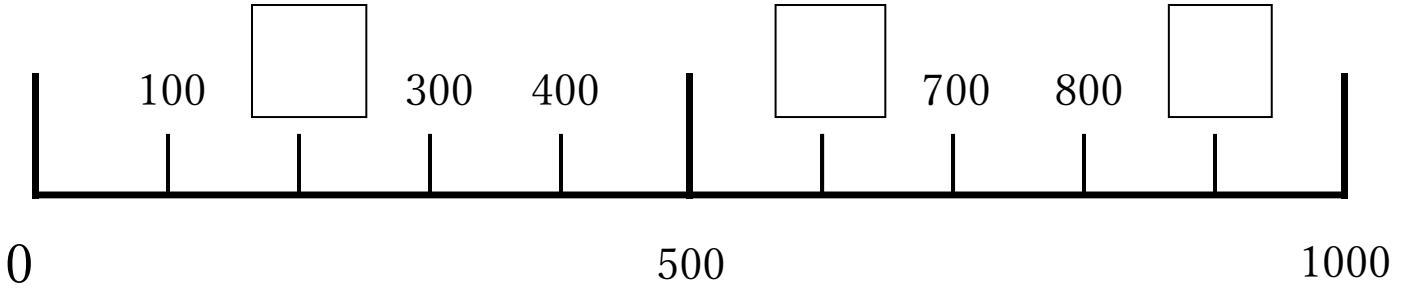
すうじ おお
数字の大きさ③

なまえ
名前

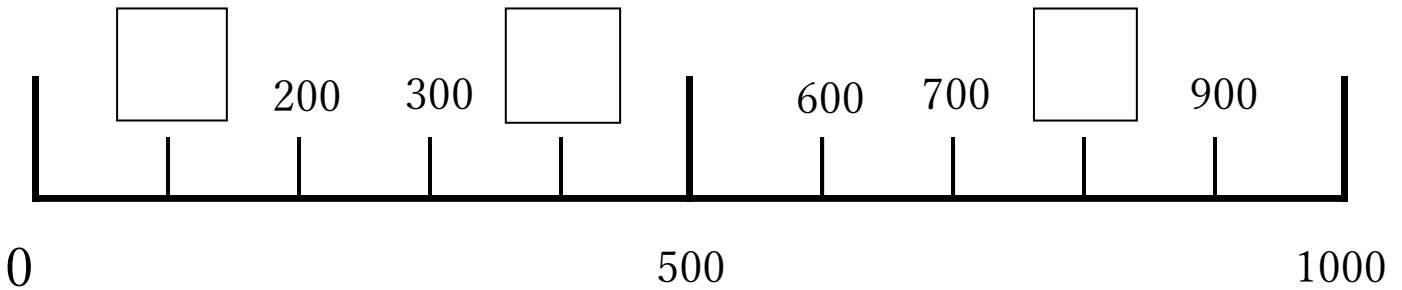


しかく はい すうじ
◆四角に入る数字をかきましょう。

①



②



おお
◆大きいほうの数字に○をつけましょう。

①

$$200 \cdot 300$$

②

$$600 \cdot 200$$

③

$$400 \cdot 100$$

④

$$800 \cdot 700$$

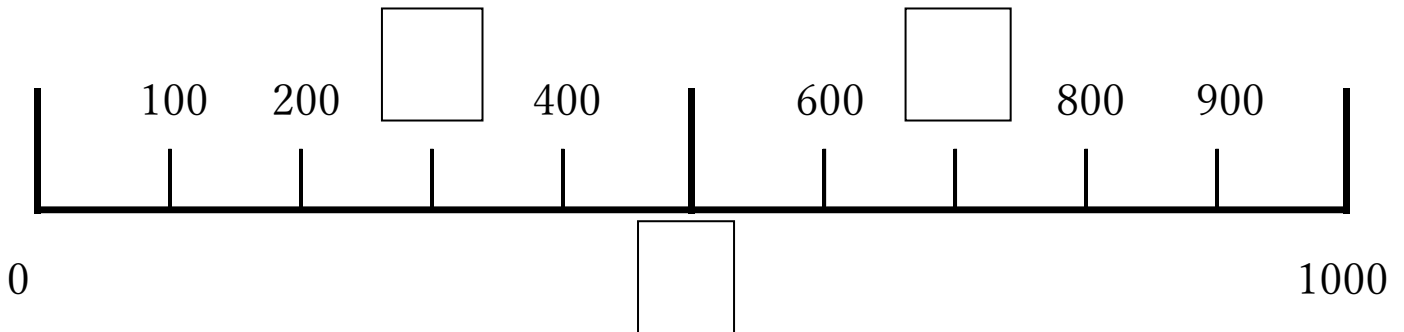
すうじ おお
数字の大きさ③

なまえ
名前

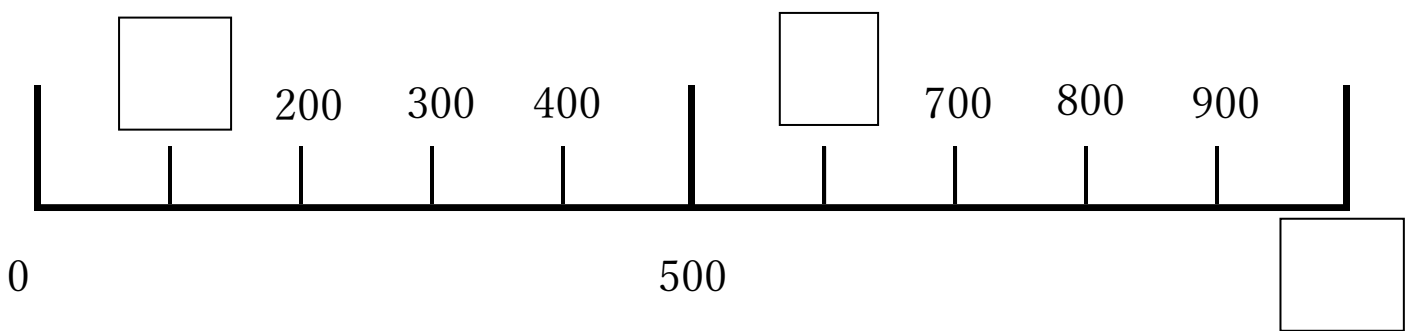


しかく はい すうじ
◆四角に入る数字をかきましょう。

①



②



おお
◆大きいほうの数字に○をつけましょう。

①

400 ・ 700

②

500 ・ 200

③

600 ・ 200

④

900 ・ 200

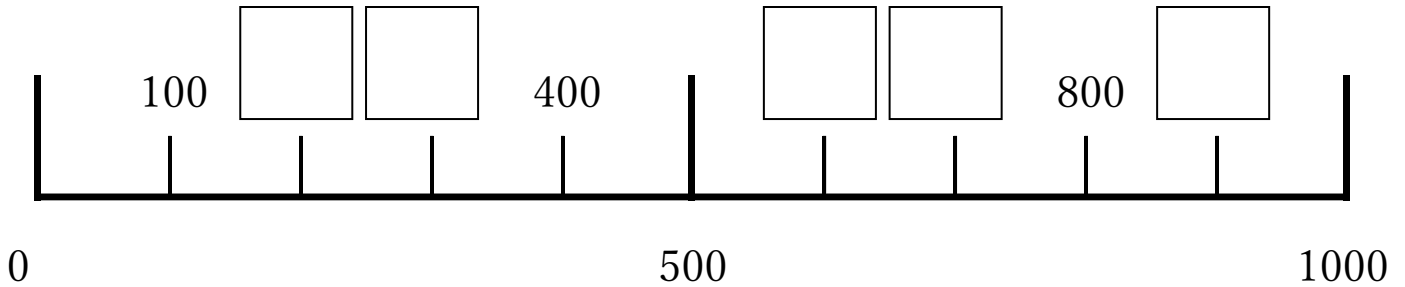
すうじ おお
数字の大きさ③

なまえ
名前

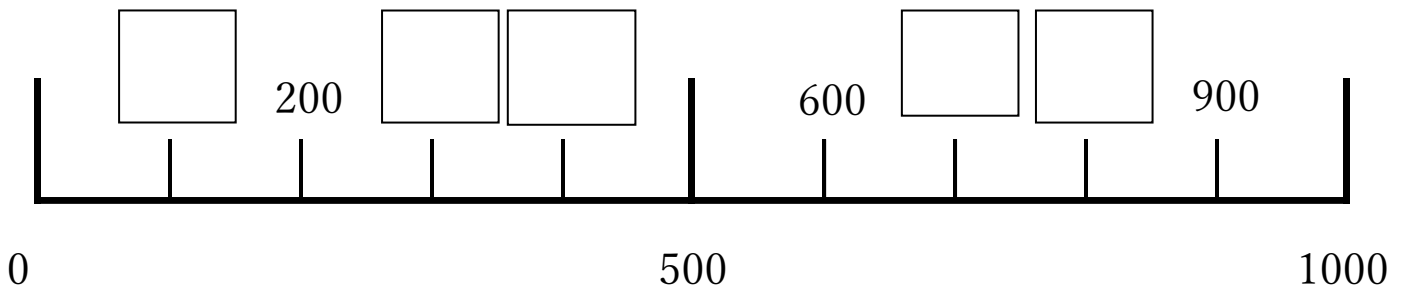


しかく はい すうじ
◆四角に入る数字をかきましょう。

①



②



おお
◆大きいほうの数字に○をつけましょう。

①

$$900 \cdot 800$$

②

$$600 \cdot 800$$

③

$$400 \cdot 100$$

④

$$500 \cdot 700$$

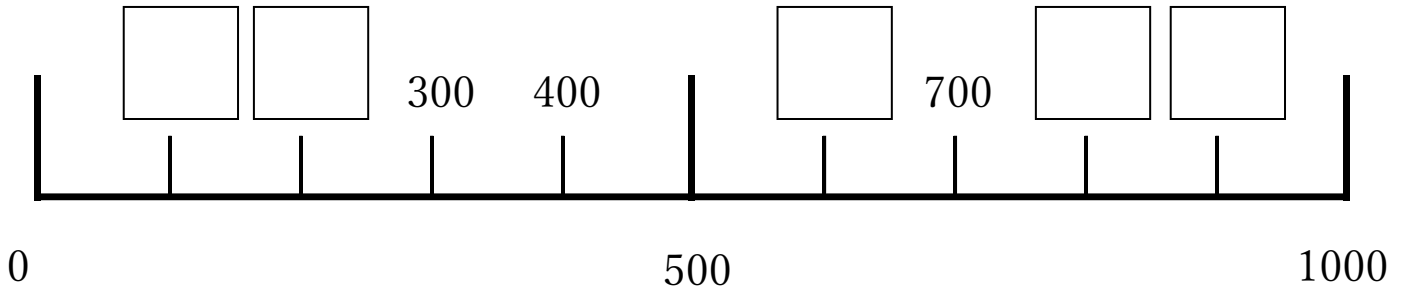
すうじ おお
数字の大きさ③

なまえ
名前

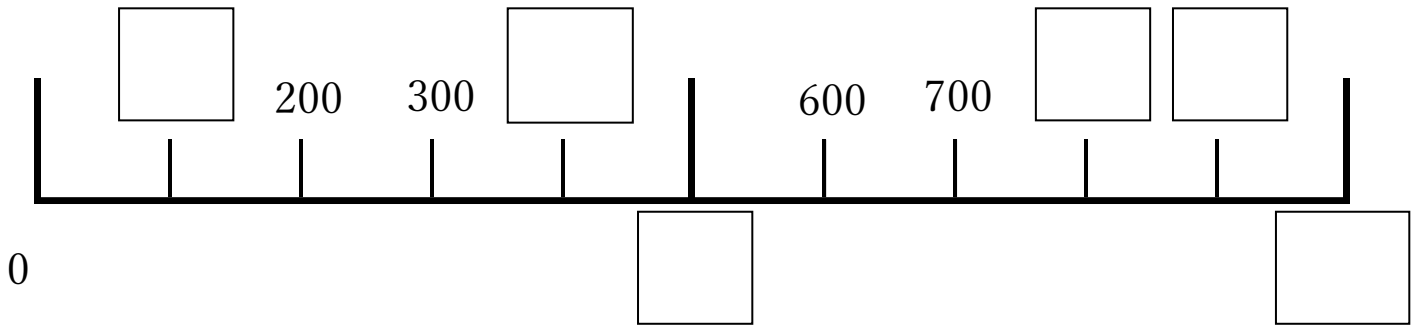


しかく はい すうじ
◆四角に入る数字をかきましょう。

①



②



おお
◆大きいほうの数字に○をつけましょう。

①

$$800 \cdot 200$$

②

$$400 \cdot 900$$

③

$$700 \cdot 500$$

④

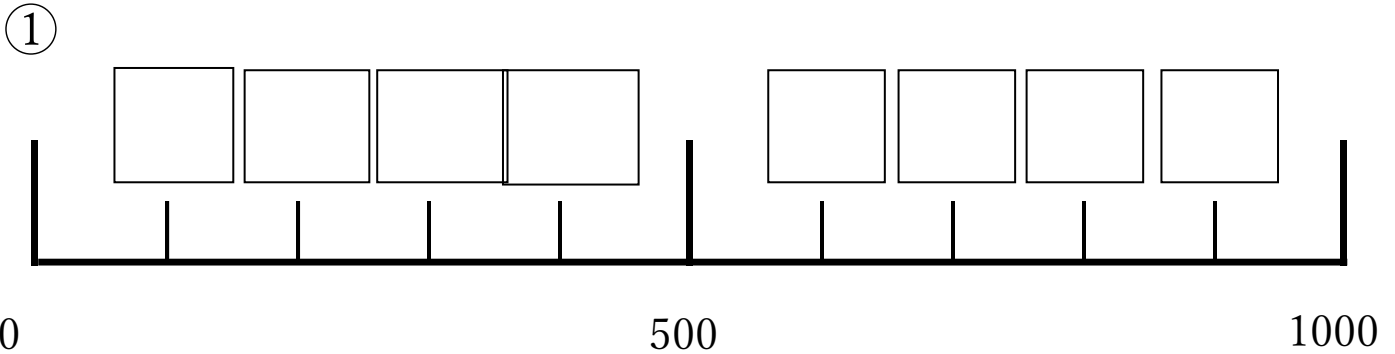
$$0 \cdot 100$$

すうじ おお
数字の大きさ③

なまえ
名前



しかく はい すうじ
◆四角に入る数字をかきましょう。



ちい
◆小さいほうの数字に○をつけましょう。

①

100 ・ 600

②

800 ・ 200

③

600 ・ 300

④

600 ・ 900

⑤

0 ・ 400

⑥

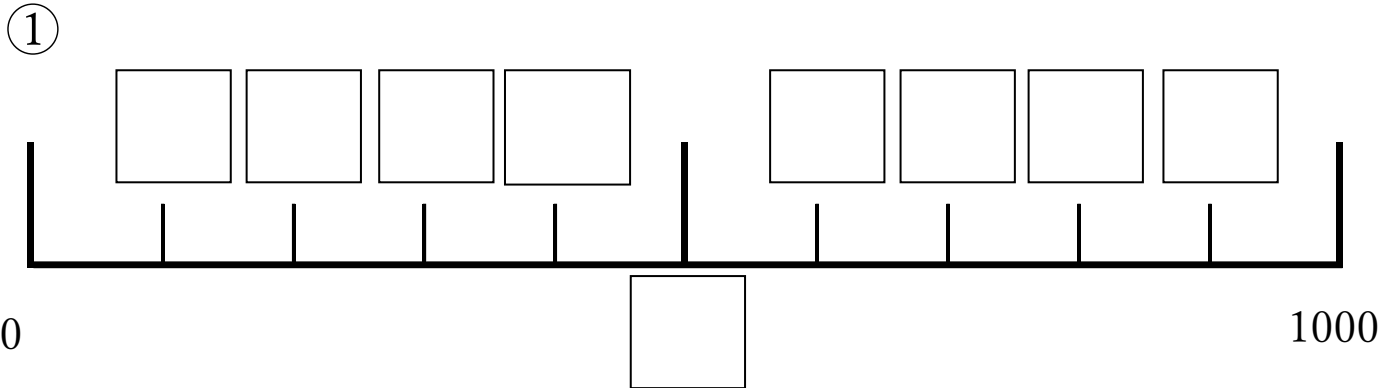
800 ・ 500

すうじ おお
数字の大きさ③

なまえ
名前



しかく はい すうじ
◆四角に入る数字をかきましょう。



ちい
◆小さいほうの数字に○をつけましょう。

①

$$400 \cdot 200$$

②

$$300 \cdot 700$$

③

$$900 \cdot 100$$

④

$$500 \cdot 800$$

⑤

$$200 \cdot 500$$

⑥

$$800 \cdot 900$$